

Chapitre 1 : Comment les revenus et les prix influencent-ils les choix des consommateurs ?

Questionnement : ? Qu'est-ce que le revenu disponible d'un ménage ?
 ? A quoi sert le revenu disponible ? Qu'est-ce que consommer et épargner ?
 ? Quels éléments importants déterminent le comportement du consommateur ? La consommation des ménages se transforme-t-elle dans le temps ?

Plan du chapitre:

I. Qu'est-ce que le revenu disponible d'un ménage ?

Questionnement : ? **Qu'est-ce que le revenu disponible d'un ménage ?**
 ? A quoi sert le revenu disponible ? Qu'est-ce que consommer et épargner ?
 ? Quels éléments importants déterminent le comportement du consommateur ? La consommation des ménages se transforme-t-elle dans le temps ?

II. L'utilisation du revenu disponible.

Questionnement : ? Qu'est-ce que le revenu disponible d'un ménage ?
 ? **A quoi sert le revenu disponible ? Qu'est-ce que consommer et épargner ?**
 ? Quels éléments importants déterminent le comportement du consommateur ? La consommation des ménages se transforme-t-elle dans le temps ?

1) La consommation des ménages.

2) L'épargne des ménages.

III. La consommation des ménages.

Questionnement : ? Qu'est-ce que le revenu disponible d'un ménage ?
 ? A quoi sert le revenu disponible ? Qu'est-ce que consommer et épargner ?
 ? **Quels éléments importants déterminent le comportement du consommateur ? La consommation des ménages se transforme-t-elle dans le temps ?**

A) Les déterminants du choix du consommateur.

1) L'importance du revenu.
 a) Le niveau de revenu.
 b) Variation du revenu et consommation.

2) L'importance des prix.
 a) Le niveau des prix
 b) Variation des prix et consommation

3) Le pouvoir d'achat.

B) Evolution de la structure de la consommation des ménages.

Pour la grande majorité de la population, les revenus se limitent aux salaires. Mais il existe d'autres types de ressources. A commencer par les revenus du patrimoine: les loyers perçus par les propriétaires qui louent des biens immobiliers, les dividendes et les intérêts reçus par les détenteurs d'actions ou d'obligations, etc. D'autres personnes travaillent mais ne perçoivent pas de salaires: honoraires des médecins ou des architectes, bénéfices des commerçants. Enfin, les retraités et les chômeurs perçoivent des revenus sociaux.

Afin de prendre en compte l'ensemble des revenus, l'Insee épluche les déclarations d'impôt. Sur cette base, il évalue "le revenu disponible", l'argent dont dispose effectivement chaque ménage pour consommer et épargner. Pour y parvenir, il ajoute aux revenus déclarés les prestations sociales non imposables (comme les allocations familiales et logement) et en retire les principaux prélèvements directs (impôt sur le revenu, taxe d'habitation, contribution sociale généralisée et contribution à la réduction de la dette sociale).

Louis Maurin
Alternatives Economiques n°279, avril 2009

- Questions:
- 1) Qu'est-ce qu'un revenu?
 - 2) Donner des exemples de revenu?
 - 3) Le revenu est-il synonyme de salaire?
 - 4) Qu'est-ce que le revenu disponible?
 - 5) Pourquoi l'appelle-t-on revenu disponible?
 - 6) Comment le calcule-t-on?
 - 7) Comment est utilisé le revenu disponible par les ménages?

Document 2:

	2000	2007
Revenu disponible moyen par ménage et par an en €	29030	33100
Revenu disponible moyen par ménage et par mois en €		
Revenu disponible médian par ménage par an en €	24670*	27630

www.insee.fr

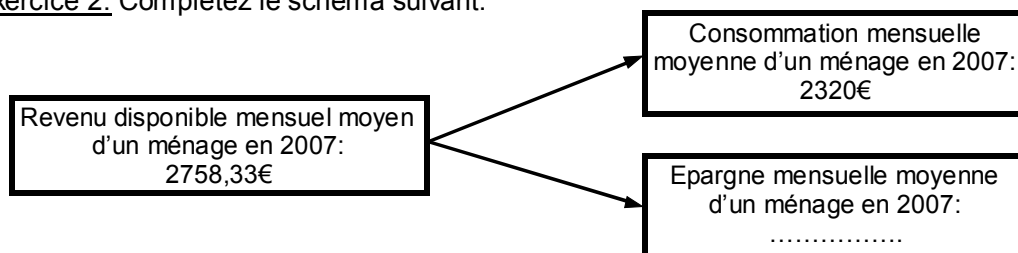
* En 2000, la moitié des ménages avaient un RD inférieur ou égal à 24670€ par an et l'autre moitié un RD supérieur ou égal à 24670€ par an.

- Questions:
- 1) Lire la donnée entourée.
 - 2) Expliquez comment a été calculée la donnée entourée.
 - 3) Complétez les cases vides du tableau.
 - 4) Comment mesureriez-vous l'augmentation du revenu disponible moyen mensuel entre 2000 et 2007?
 - 5) Lire la donnée 27630.

Exercice 1: En 2007, la consommation moyenne d'un ménage est de 2320€ par mois.

- 1) Lire cette donnée d'une autre manière.
- 2) Calculez pour 2007 la part (en %) de la consommation mensuelle moyenne d'un ménage dans le revenu disponible mensuel moyen (voir doc 2).
Complétez la phrase suivante: En 2007, sur 100€ de revenu disponible en moyenne, un ménage en consacreà la consommation.

Exercice 2: Complétez le schéma suivant:



Document 3:

L'épargne permet aux ménages de se constituer un patrimoine et génère des revenus appelés revenus du patrimoine. On distingue deux types d'épargne :

- **L'épargne financière** comprend l'ensemble des placements financiers. Les principaux sont :
 - les **livrets d'épargne** qui distribuent des intérêts aux épargnants ;
 - les **actions** ou titres de propriété d'entreprises cotées en Bourse qui offrent aux actionnaires des dividendes ;
 - les **contrats d'assurance vie** qui permettent à l'épargnant de bénéficier d'un revenu supplémentaire pendant sa retraite (une rente) ou de transmettre son capital à ses héritiers en cas de décès ;
 - l'**épargne logement** qui rapporte des intérêts et permet à l'épargnant qui souhaite acquérir un logement d'emprunter à un taux préférentiel ;
 - l'**épargne retraite** qui permet à un individu ayant épargné pendant sa période d'activité de bénéficier d'une retraite supplémentaire, soit sous forme d'un revenu supplémentaire (une rente), soit en récupérant son capital épargné majoré d'intérêts ;
 - l'**épargne salariale** permet aux salariés de recevoir un intéressement sur les bénéfices de leur entreprise, ou des actions qu'ils pourront ensuite revendre.
- **L'épargne non financière** (ou investie) comprend l'acquisition des biens immobiliers et les investissements des entrepreneurs individuels (achat d'outils pour un artisan par exemple). Cette épargne génère aussi des revenus du patrimoine dont le plus important est le loyer des propriétés immobilières.

O. Leblanc, © Nathan, 2010.

Questions:

- 1) Quelles sont les 2 grandes familles d'épargne?
- 2) A quelle photographie correspond chaque produit d'épargne présenté dans le texte?

Activité extraite du manuel SES Seconde, Nathan, 2010.



Exercice 3:

Le ménage DUPONT se compose de 4 personnes. Alain, le père, est ingénieur dans une grande entreprise. Son salaire net mensuel est de 4000€. Sa femme Brigitte est au chômage. Les indemnités de chômage qui lui sont versées s'élèvent à 500€ par mois. Pierre et Caroline, leurs enfants, sont au lycée. Pierre fait du baby-sitting et ce mois-ci il a gagné 150€. La famille reçoit des allocations familiales mensuelles pour un montant de 119€. Mr et Me Dupont détiennent un livret A qui leur rapporte 120€ d'intérêt par an. Enfin, la famille Dupont verse au Trésor Public la somme de 4500€ par an au titre des différents impôts et taxes.

- 1) Calculez le revenu disponible mensuel de ce ménage.
- 2) Sachant que ce ménage consacre 85% de son revenu disponible à sa consommation, calculez le montant de sa consommation mensuelle. En déduire le montant de son épargne mensuelle. Exprimez dans une phrase le résultat trouvé.

A partir des 3 extraits présentés, répondre aux questions suivantes:

- 1) Quelles différences de consommation constatez-vous entre les mineurs et les bourgeois?
- 2) Quel facteur explicatif proposez-vous?

Exercice 4:

Brigitte Dupont vient de retrouver un emploi rémunéré, permettant ainsi au ménage DUPONT de voir son revenu disponible mensuel passer de 4404€ à 5404€, soit une hausse de 1000€ mais aussi de **22,7%** du revenu. Ainsi, leur consommation s'accroît de 756,6€, soit une augmentation de la consommation de 20,2%.

La consommation est donc sensible à la variation du revenu car une hausse de 22,7% du revenu s'est traduite par une augmentation de la consommation de 20,2%.

- 1) Expliquez la donnée encadrée dans le texte.
- 2) Expliquez le terme de « sensible »
- 3) Comment peut-on expliquer la variation (hausse ou baisse) de la consommation à un moment donné?

Document 5:



Quelle boîte de poudre chocolatée instantanée achèteriez-vous? Pourquoi?

Document 6:

A partir du reportage paru sur France 3 et que vous trouverez en tapant l'adresse ci-dessous dans la barre d'adresse de votre navigateur, dites quel(s) peut (peuvent) être l'(les) effet(s) de la hausse du prix de l'électricité décidé cet été? (pour obtenir la vidéo, choisissez l'onglet « vidéo », pour lire l'article correspondant, choisir l'onglet « lire »).

http://info.france3.fr/economie/apres-la-hausse-du-gaz-celle-de-l-electricite-64405670.html?onglet=videos&id-video=MAM_350000000010914_201008131335_F2

Exercice 5:

Poste de consommation	Elasticité de la consommation / au prix
Alimentaire	- 0,43
Carburants	- 0,7*
Loisirs	- 2,53

(*) Une hausse du prix du carburant de 1% se traduit par une diminution de la consommation de carburants des ménages de 0,7% en 2006, en France d'après l'INSEE.

« Elasticités-prix des consommations énergétiques des ménages ». M.Clerc, V. Marcus, Direction des études et synthèses économiques, INSEE, 2008-2009.

Questions:

- 1) Faire une phrase avec la donnée en gras.
- 2) Pourquoi le consommateur réagit-il plus à une variation des prix des loisirs qu'à celle des produits alimentaires ou carburants?

Document 7:

Pour l'économiste, le pouvoir d'achat est la quantité de biens et de services que l'on peut acheter avec le revenu disponible. Il suffit donc que la hausse des revenus dépasse celle des prix pour que le pouvoir d'achat progresse.

« Mesurer le pouvoir d'achat », Rapport du Conseil d'Analyse Economique, P. Moati et R. Rochefort, 2008.

Question: Définir le pouvoir d'achat.

Exercice 6:

Suite à son divorce, Me DUPONT se retrouve seule avec un revenu disponible de 1200€ par mois. Du fait de la faiblesse de son revenu, elle ne peut épargner et dépense en consommation la totalité de son revenu disponible (hypothèse que nous conserverons pour la totalité de l'exercice).

Situation 1: Si son revenu disponible augmente de 10% soit dealors elle a un revenu disponible de Sa consommation s'élève donc àElle a donc..... par rapport à la situation de départ. Son pouvoir d'achat a donc

1320€ / augmenté / 120€ / progressé / 1320€

Situation 2: Sachant que les prix des biens et des services qu'elle doit acheter ont augmenté de 10%, le montant qu'elle doit consacrer à sa consommation aOr son revenu disponible est identique à celui de la situation initiale donc Me Dupont doitsa consommation, son pouvoir d'achat a donc

baissé / augmenté / réduire

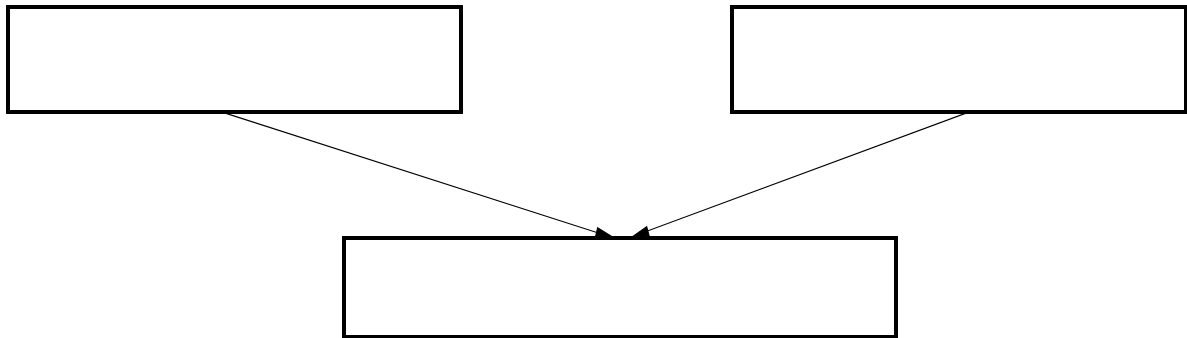
Situation 3: Le revenu disponible de Me Dupont augmente de 10%, elle a donc un revenu de 1320€. Au même moment, les prix des biens et services qu'elle doit acheter s'accroissent de 5% donc le montant qu'elle doit consacrer à sa consommation passe de 1200€ àUne partie de son revenu disponible (1320 - 1260 =) n'a donc pas été consommé. Elle peut donc ses dépenses en biens et services: son pouvoir d'achat a

Augmenté / 1260€ / accroître / 60€

Questions:

- 1) Complétez les blancs à l'aide des propositions fournies à la fin de chaque situation.
- 2) A quelle situation correspond la dernière phrase du document 7?

Exercice 7: Complétez le schéma suivant à l'aide des expressions suivantes: variation des prix, variation du pouvoir d'achat, variation du revenu disponible. 6



Exercice 8: Relier de manière correcte:

La variation du revenu disponible est plus forte que celle des prix

Le revenu disponible diminue alors que le niveau des prix est constant.

Le revenu disponible est constant et le niveau des prix augmente.

Le revenu disponible augmente alors que le niveau des prix est constant.

Le prix de l'énergie augmente et le revenu disponible stagne

Hausse du pouvoir d'achat

Baisse du pouvoir d'achat

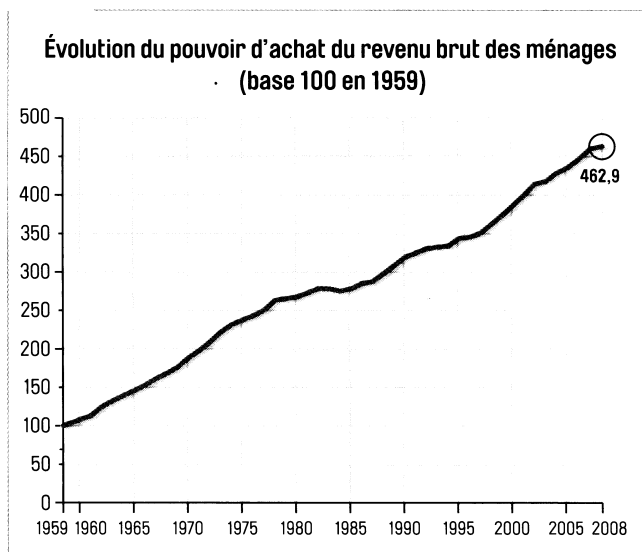
Exercice 9: Exercice sur les indices

	1980	1990	2000	2010
SMIC Horaire brut en €	2,25	4,77	6,41	8,86
Indice Smic horaire brut base 100 en 1980	100			
Indice Smic horaire brut base 100 en 1990		100		

Questions:

- 1) Compléter la dernière ligne du tableau.
- 2) A partir de la dernière ligne du tableau, trouvez les taux de croissance du Smic horaire brut de 1990 à 2010, de 1980 à 1990 et de 2000 à 2010.

Données première ligne du tableau: www.insee.fr



D'après INSEE Référence 2009: «Cinquante ans de consommation en France », Manuel de SES Seconde, Bordas

Questions:

- 1) Faites une phrase qui explique la donnée entourée.
- 2) Le pouvoir d'achat du revenu brut des ménages a-t-il augmenté régulièrement au cours des cinquante dernières années?

Document 9: Coefficients budgétaires¹ en %

	1960	2007
Alimentation	(38)	25
Logement	16	19
Transport	11	18
Habillement	14	9
Santé	2	4
Communication, loisirs, culture	10	16
Services divers	8	10
Total	100	100

Données INSEE, comptes nationaux

1. Part de la dépense consacrée à un bien ou un service particulier dans les dépenses totales d'un ménage.

Questions:

- 1) Rédigez une phrase présentant le chiffre entouré.
- 2) Quelles sont les dépenses dont la part dans les dépenses totales a le plus diminué? Augmenté?
- 3) Les français dépensent-ils moins pour la nourriture en 2007 qu'en 1960?